

1 Welche Zahlen verstecken sich hinter den Bildern?

$$\text{Crescent} \text{ Castle} - \text{Crescent} = \text{Cloud} \text{ Cloud}$$

$$\text{Star} \text{ Hat} - \text{Crescent} \text{ Castle} = \text{Shield} \text{ Hat}$$

$$\text{Crescent} \text{ Castle} \text{ Crescent} + \text{Crescent} = \text{Crescent} \text{ Castle} \text{ Candle}$$











$$\text{Apple} \cdot \text{Candle} \text{ Star} = \text{Crescent} \text{ Candle} \text{ Castle}$$

$$\text{Candle} \cdot \text{Crescent} + \text{Hat} = \text{Crescent} \text{ Castle}$$

$$\text{Shield} \text{ Apple} : \text{Mouse} = \text{Apple}$$

$$\text{Candle} \cdot \text{Candle} \text{ Castle} \text{ Castle} = \text{Star} \text{ Castle} \text{ Castle}$$

$$\text{Ghost} \text{ Castle} - \text{Cloud} = \text{Apple} \text{ Crescent}$$

 = <u> </u>	 = <u> </u>	 = <u> </u>	 = <u> </u>	 = <u> </u>
 = <u> </u>	 = <u> </u>	 = <u> </u>	 = <u> </u>	 = <u> </u>

Wenn du dir bei den römischen Zahlen nicht sicher bist, dann schau nach.

2 Römische Zahlen: Lege jeweils ein Streichholz so um, dass die Rechnung stimmt.



a) Findest du zwei Lösungen?

$$\text{VI} + \text{I} = \text{XII}$$

$$\text{VI} + \text{I} = \text{XII}$$

b) Findest du vier Lösungen?

$$\text{VI} + \text{V} = \text{XI}$$

$$\text{VI} + \text{V} = \text{XI}$$

$$\text{VI} + \text{V} = \text{XI}$$

$$\text{VI} + \text{V} = \text{XI}$$

Wie gehen die Reihen weiter? Zeichne jeweils die nächste Figur.

